

22. travanj

DAN PLANETA ZEMLJE



ZADATAK 1: oboji planetu koristeći plavu boju

za oceane i mora, a zelenu i smeđu za kopno

ZADATAK 2: među razbacanim slovima pronadi

i zaokruži slova koja čine natpis PLANETA

ZEMLJA

L
P
J Z LJ H A
M I I E V
W E A Š Đ
N A T O C
G



I JOŠ MALO ZABAVE NA ENGLISKOM JEZIKU

Na engleskom se planeta Zemlja zove PLANET EARTH ili samo EARTH.

Već ste čuli da je naša planeta jedinstvena planeta u Sunčevu sustavu, a klikom na navedenu video poveznicu možete čuti pjesmicu koja govori po čemu je drugačija i posebija od drugih planeta. Neka vam pomognu roditelji!

<https://www.youtube.com/watch?v=PS0k8mODHCY>

Pripremila: Ivana Unger

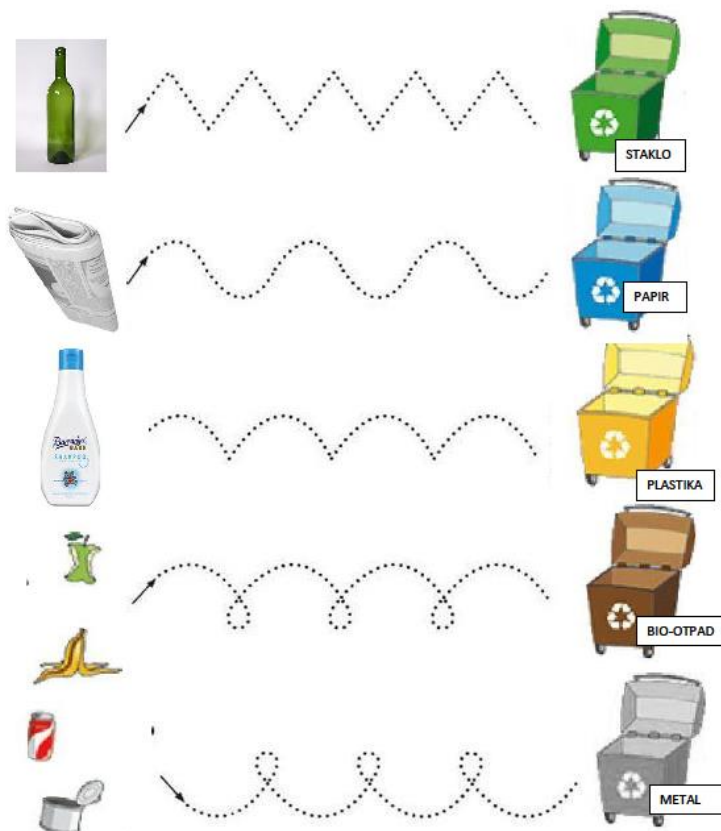


Cilj: usvajanje znanja o odvajanju otpada te uvježbavanje grafomotoričkih vještina.

Iz reklamnih letaka izrežite sličice na kojima je prepoznatljiva građa ambalaže ponuđenog proizvoda (staklo, plastika, tetrapak, papir, metal,...)

Izrežite sličicu ambalaže i zalijepite s lijeve strane papira. Na desnu stranu papira nacrtajte pripadajući kontejner za razvrstavanje otpada (plavi-papir, žuti-plastika, biootpad-smeđi, baterije-crveni, staklo-zeleni, papir-plavi).

Između jedne i druge sličice iscrtajte put kojim dijete treba iscrtati olovkom.



RIJEŠIMO RADNE ZADATKE O PLANETI ZEMLJI
KROZ MATEMATIKU

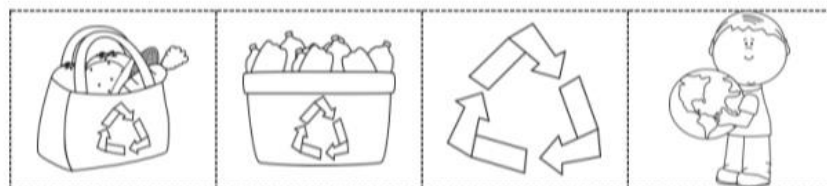

Listić 1: KAKVOG JE OBLIKA ZEMLJA? (oboji točan
geometrijski lik zelenom bojom)

KAKVOG JE OBLIKA ZEMLJA ?







Listić2: NASTAVI NIZ

NASTAVI NIZ



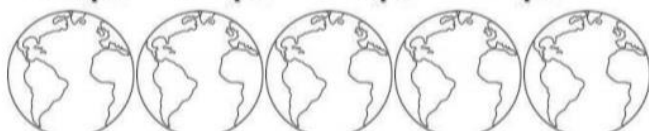
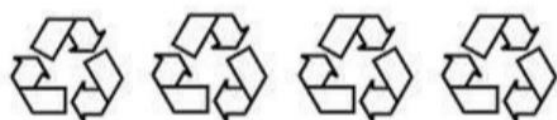
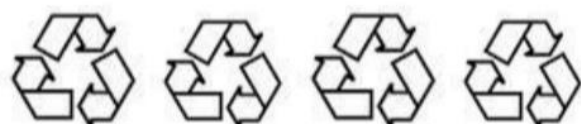

Listić3: KOLIKO IMA (prebroji i u kvadratić napiši
onoliko kružića koliko čega ima ili ako znaš upiši
točan broj)

KOLIKO IMA



Listić4: Koliko ima (prebroji i spoji crtom točnom broju)

KOLIKO IMA?



6

7

8

9

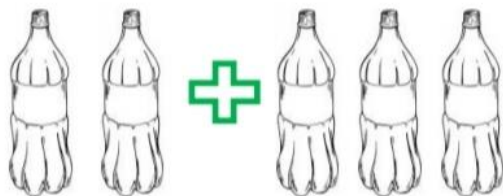
10

Listić 5: ZBRAJALICA

ZBRAJALICA



$$4 + 1 =$$



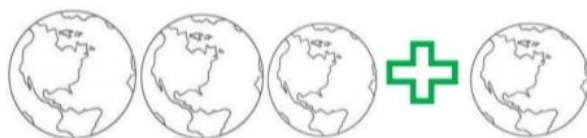
$$2 + 3 =$$



$$1 + 2 =$$




$$2 + 2 =$$



$$3 + 1 =$$

Listić 6: ODUZIMALJKA


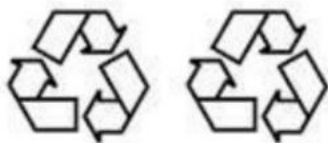
ODUZIMALJKA




$$4 - 1 =$$



$$5 - 2 =$$



$$3 - 2 =$$



$$4 - 1 =$$



$$6 - 2 =$$